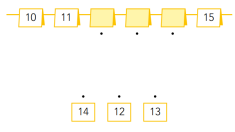


Naam:

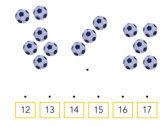
Russart - Groep 3 - Blok 1

Ik wil groeien in




Zo is het gegaan: 😞 😞 😞 😞 😞 😞

Ik wil groeien in



Zo is het gegaan: 😞 😞 😞 😞 😞 😞

Ik wil groeien in



Zo is het gegaan: 😞 😞 😞 😞 😞 😞

Ik wil groeien in

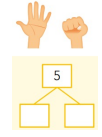


Zo is het gegaan: 😞 😞 😞 😞 😞 😞

Naam:

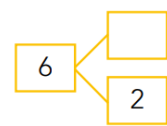
Russart - Groep 3 - Blok 2

Ik wil groeien in



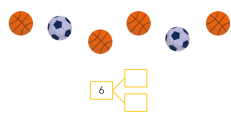
Zo is het gegaan: 😞 😞 😞 😞 😞 😞

Ik wil groeien in



Zo is het gegaan: 😞 😞 😞 😞 😞 😞

Ik wil groeien in



Zo is het gegaan: 😞 😞 😞 😞 😞 😞

Ik wil groeien in

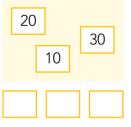


Zo is het gegaan: 😞 😞 😞 😞 😞 😞

Naam:

Russart - Groep 3 - Blok 3

Ik wil groeien in



Zo is het gegaan: 😞 😞 😞 😞 😞 😞

Ik wil groeien in

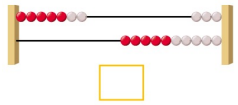


Zo is het gegaan: 😞 😞 😞 😞 😞 😞

Naam:

Russart - Groep 3 - Blok 4

Ik wil groeien in



Zo is het gegaan: 😞 😞 😞 😞 😞 😞

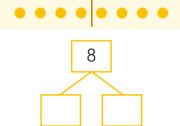
Ik wil groeien in

$4 + 4 = \dots\dots$

$6 + 1 = \dots\dots$

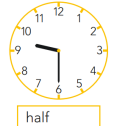
Zo is het gegaan: 😞 😞 😞 😞 😞 😞

Ik wil groeien in




Zo is het gegaan: 😞 😞 😞 😞 😞 😞

Ik wil groeien in



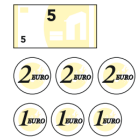
Zo is het gegaan: 😞 😞 😞 😞 😞 😞

Ik wil groeien in



Zo is het gegaan: 😞 😞 😞 😞 😞 😞

Ik wil groeien in

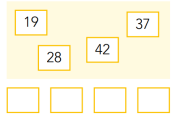


Zo is het gegaan: 😞 😞 😞 😞 😞 😞

Naam:

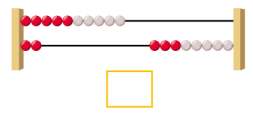
Russart - Groep 3 - Blok 5

Ik wil groeien in



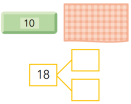
Zo is het gegaan: 😞 😞 😞 😞 😞 😞

Ik wil groeien in



Zo is het gegaan: 😞 😞 😞 😞 😞 😞

Ik wil groeien in



Zo is het gegaan: 😞 😞 😞 😞 😞 😞

Ik wil groeien in



Zo is het gegaan: 😞 😞 😞 😞 😞 😞

Uitleg van de doelen

Puzzel - Groep 3 - Blok 2

Ik wil groeien in de splitsingen van 4, 5 en 6.

Ik wil groeien in een verhaal maken bij de splitsing van 4, 5 en 6.

Ik wil groeien in de splitsingen van 6 en 7.

Ik wil groeien in alle blokken in een blokkenbouwsel tellen.

Uitleg van de doelen

Puzzel - Groep 3 - Blok 1

Ik wil groeien in getallen tot en met 20 op volgorde zetten. De buurgetallen van getallen tot en met 20.

Ik wil groeien in hoeveelheden tot en met 20 tellen en vergelijken.

Ik wil groeien in groepjes van 5 maken en er handig mee tellen.

Ik wil groeien in aflezen van hele uren op de klok en de wijzers tekenen van het hele uur op de klok.

Uitleg van de doelen

Puzzel - Groep 3 - Blok 4

Ik wil groeien in hoeveelheden tot en met 10 opzetten en aflezen op het rekenrek.

Ik wil groeien in $+ 1$, $+ 2$, $- 1$, $- 2$ sommen en dubbelsommen herkennen.

Ik wil groeien in de splitsing van 10 (verliefde harten).

Ik wil groeien in bedragen tot en met 10 euro herkennen en samenstellen met zo min mogelijk munten en biljetten.

Uitleg van de doelen

Puzzel - Groep 3 - Blok 3

Ik wil groeien in getallen tot en met 30 op volgorde zetten.

Ik wil groeien in bij een som een verhaal bedenken en wat $+$, $-$ en $=$ betekent.

Ik wil groeien in de splitsingen van 8 en 9.

Ik wil groeien in aflezen van halve uren op de klok en de wijzers tekenen van het halve uur op de klok.

Uitleg van de doelen

Puzzel - Groep 3 - Blok 5

Ik wil groeien in getallen tot en met 50 op volgorde zetten.

Ik wil groeien in hoeveelheden tot en met 20 opzetten en aflezen op het rekenrek.

Ik wil groeien in getallen tussen 10 en 20 splitsen in een tiental en eenheden.

Ik wil groeien in de wijzers van de klok een uur later en vroeger zetten.